

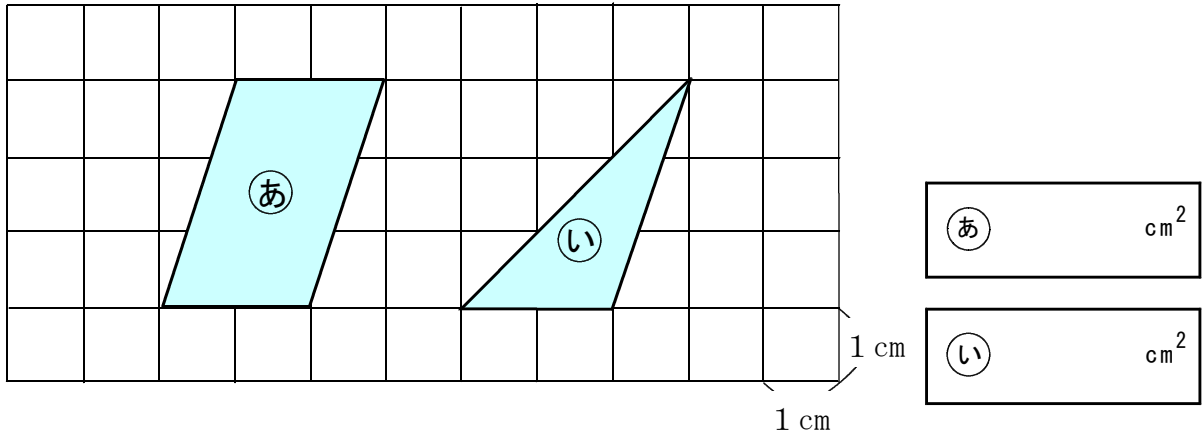
# フォローアップシート No. 2 量と測定

( ) 年 ( ) 組・名前 ( )

／ 9 問

○ 答えは、すべて解答らんに書きましょう。

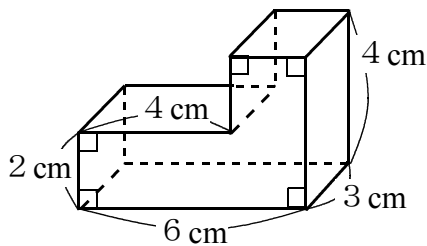
- 1 次の **あ**、**い** の色をつけた図形の面積は何  $\text{cm}^2$  ですか。答えを書きましょう。ただし、図の1目もりは1 cmとします。



- 2 千円札<sup>まい</sup>1枚の面積は約何  $\text{cm}^2$  ですか。次のア～エの中から1つ選んで、その記号を書きましょう。

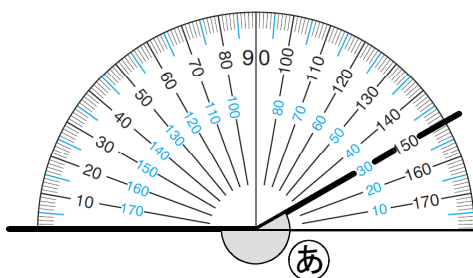
- ア 約 50  $\text{cm}^2$
- イ 約 100  $\text{cm}^2$
- ウ 約 500  $\text{cm}^2$
- エ 約 1000  $\text{cm}^2$

- 3 次の立体の体積は何  $\text{cm}^3$  ですか。答えを書きましょう。



$\text{cm}^3$

- 4 次の図の **あ** の角の大きさは何度ですか。答えを書きましょう。

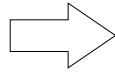


度

- 5 ひかるさんは、午前中に家を出発し、同じ日の午後、遊園地に着きました。次の図の時計は、それぞれ家を出発した時刻と遊園地に着いた時刻を表しています。家を出発してから遊園地に着くまでに、何時間何分かかりましたか。答えを書きましょう。



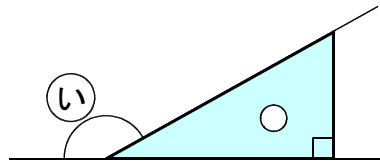
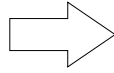
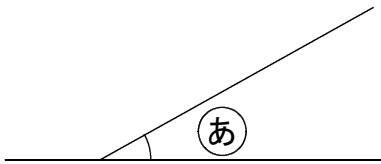
家を出発した時刻



遊園地に着いた時刻

時間	分
----	---

- 6 次の図のように、(あ)の角に三角定規の1つの角を当てるとぴったり重なりました。(い)の角の大きさは何度ですか。答えを書きましょう。



度
---

- 7 Aの部屋は12m<sup>2</sup>で、部屋には24人います。Aの部屋の1m<sup>2</sup>あたりの人数は何人ですか。答えを書きましょう。

人
---

- 8 AとBのシートがあります。次の表は、シートの上にすわっている人数とシートの面積を表しています。どちらのシートの方が混んでいるかを調べるために、次の計算をしました。

すわっている人数とシートの面積

	人数(人)	面積(m <sup>2</sup> )
A	12	6
B	8	5

$$A \quad 12 \div 6 = 2$$

$$B \quad 8 \div 5 = 1.6$$

上の計算からどんなことが分かりますか。次のア～エの中から1つ選んでその記号を書きましょう。

- ア 1m<sup>2</sup>あたりの人数は2人と1.6人なので、Aの方が混んでいる。
- イ 1m<sup>2</sup>あたりの人数は2人と1.6人なので、Bの方が混んでいる。
- ウ 1人あたりの面積は2m<sup>2</sup>と1.6m<sup>2</sup>なので、Aの方が混んでいる。
- エ 1人あたりの面積は2m<sup>2</sup>と1.6m<sup>2</sup>なので、Bの方が混んでいる。

--